

# 通州区 2019 年初三第一次模拟考试

## 地理试卷

2019 年 4 月

学校 \_\_\_\_\_ 班级 \_\_\_\_\_ 姓名 \_\_\_\_\_

<b>考生须知</b>	<p>1. 本试卷分 I、II 两卷,共 12 页,满分 90 分,考试时间 90 分钟。</p> <p>2. 在试卷和答题卡上准确填写学校、班级、姓名。</p> <p>3. 试题答案一律填涂或书写在答题卡上,在试卷上作答无效。</p> <p>4. 在答题卡上,选择题用 2B 铅笔作答,其他试题用黑色字迹签字笔作答。</p> <p>5. 考试结束后,请将本试卷和答题卡一并交回。</p>
-------------	--

### 第 I 卷 选择题(包括 40 道小题,每小题 1 分,共 40 分)


下列各小题的选项中,只有一项是正确的,请把正确选项前的字母填在答题卡上。

元宵节赏灯、猜灯谜、放孔明灯是中华传统节日习俗,图 1 为 2019 年元宵节赏灯指数图。读图,完成 1~5 题。

图 1 为 2019 年元宵节赏灯指数图。

1. 古诗云:“有灯无月不娱人”,在我国既能赏“雪打灯”,又能赏“海上生明月”的省区是
- A. 四川省                      B. 福建省  
C. 湖南省                      D. 山东省

2. 西安元宵节天气状况可能是



3. 孔明灯俗称许愿灯,放孔明灯时需要通过燃烧蜡烛等可燃物来加热灯内空气使其上升飘向空中,天气条件是晴朗且风力小于 4 级。表 1 为 2019 年元宵节当日天气资料,依据资料可知

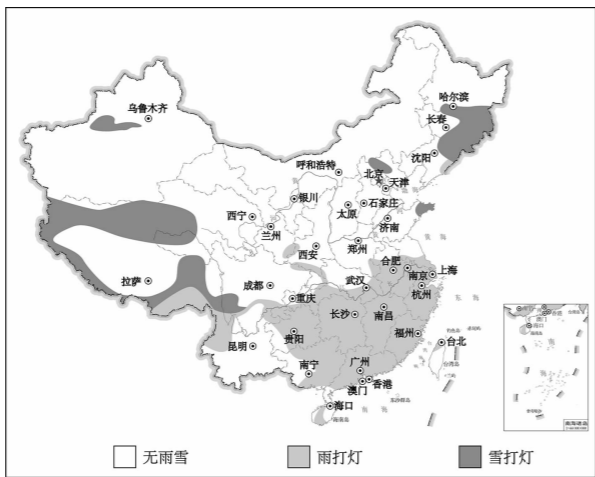


图 1

表 1

城市	北京	广州
夜间天气	-4℃, 西北风 2 级	18℃, 东北风 1 级

- A. 北京可成功放灯,但需防火灾                      B. 广州不易发生火灾,可成功放灯  
C. 北京的孔明灯会朝西北方向飞                      D. 广州孔明灯会朝东北方向飞

4. 今年故宫上演“紫禁城上元之夜”元宵节文化活动。这是故宫博物院建院 94 年来第一次在晚间免费对公众开放,也是 600 岁的紫禁城古建筑群第一次在晚间被大规模点亮。这一活动体现了北京是全国的

- A. 政治中心                      B. 国际交往中心                      C. 经济中心                      D. 文化中心

5. 台湾居民历来对元宵节十分重视,台北放“天灯”的活动一年比一年精彩。“天灯”做得越来越大,七彩的灯上不但绘有各种美丽的图案,还经常写着放灯者的姓名。今年台北一名中学生在灯上写下了“去年元夜时,花市灯如昼。月上柳梢头,人约黄昏后。今年元夜时,月与灯依旧……”。这说明

- A. 台北每年元宵节天气都相同                      B. 台北元宵节的天气与北京完全相同  
C. 祖国两岸同胞文化根脉一致                      D. 台北元宵节放灯活动仅有两年历史

2018 年 7 月 2 日,中国贵州省梵净山获准列入世界自然遗产名录,图 2 为梵净山区域的等高线地形图。读图,完成 6~10 题。

6. 图中

- A. 山峰②海拔为 2200 米  
B. 山峰③比山峰②高 400 米  
C. A 处为山脊  
D. B 处为山谷

7. 该区域

- ①山脉大体为南北走向  
②山脉大体为东西走向  
③甲处地形为高原  
④甲处地形为平原

- A. ①③                      B. ①④  
C. ②③                      D. ②④

8. a、b 两条河流中

- A. a 河自北向南流                      B. b 河自南向北流  
C. a 河比 b 河流程长                      D. a 河比 b 河水量小

9. 梵净山申遗成功有利于当地

- A. 开发矿产资源                      B. 保护生态环境  
C. 增加耕地面积                      D. 开发水能资源

10. 在该地区进行野外考察活动,适合的运输方式及其原因是

- A. 河运,水流平缓                      B. 铁路,地表崎岖  
C. 公路,可随时停车                      D. 航空,速度快、省时

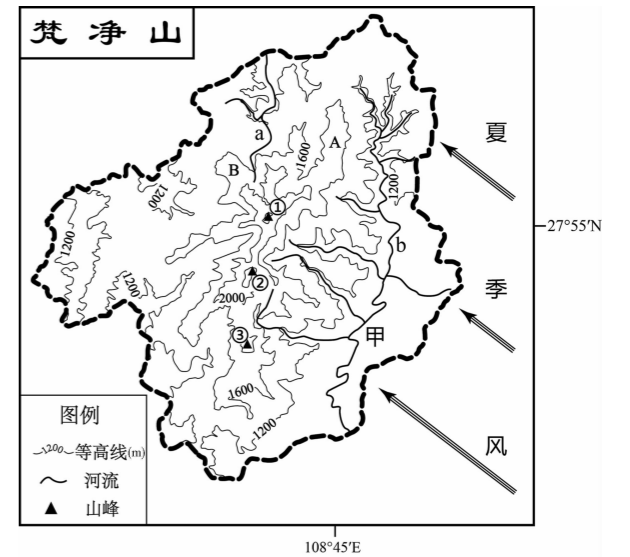


图 2

图3为长江流域简图,读图,完成11~14题。

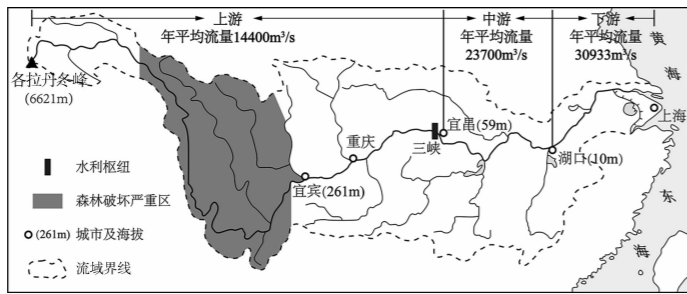


图3

11. 长江

- A. 源头是各拉丹冬峰
- B. 湖口以下河段流域变宽
- C. 自西向东流入渤海
- D. 干流各段都是自西向东流

12. 长江上游与其他河段相比水能更丰富,原因是

- A. 落差大,流速慢
- B. 落差大,流速快
- C. 流速慢,含沙量大
- D. 年平均流量最大

13. 三峡工程的作用是

- A. 调控长江中游洪水水量,减少了洪涝灾害
- B. 蓄存上游洪水,减少中游地区的灌溉面积
- C. 增加上游河段流速,降低长江的通航能力
- D. 调控了长江下游支流注入长江干流的水量

14. 阴影地区森林破坏造成的影响是

- A. 宜宾以上河段含沙量减少
- B. 源头河段的水质变差
- C. 长江中游的含沙量增大
- D. 减轻重庆的防汛压力

目前我国正从人口大国逐步迈向人力资源大国,图4为近十年我国人口增长、65岁及以上人口所占比重图。读图,完成15~17题。

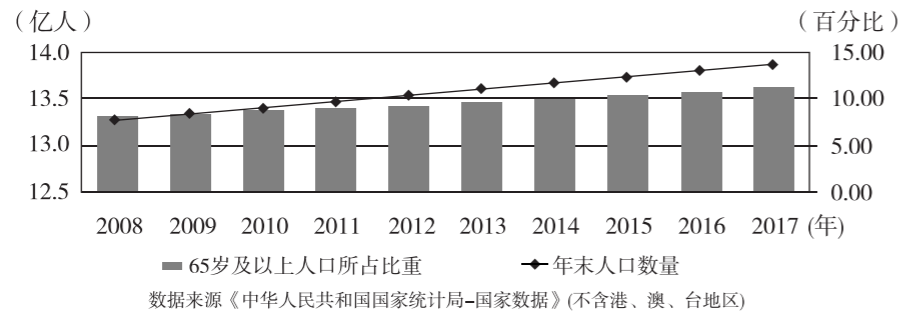


图4

15. 近十年我国人口

- A. 总量逐年减少
- B. 老年人口比重不断增加
- C. 分布趋于均匀
- D. 没有变化

16. 我国全面实施二孩政策,有利于

- A. 大幅度减少人口数量
- B. 减缓人口增长
- C. 缓解人口老龄化问题
- D. 维持男女性别比例均衡

17. 我国从人口大国逐步迈向人力资源大国的关键是

- A. 迅速降低人口数量
- B. 接纳友好国家的移民
- C. 逐步提高人口数量
- D. 大力提高人口素质

小华同学绘制了“我国四种气象灾害分布图”,如图5所示。读图,完成18~20题。

18. 图例中表示台风入侵路径的是

- A. 甲
- B. 乙
- C. 丙
- D. 丁

19. 图中A区域

- A. 洪涝灾害为主
- B. 不会出现洪涝灾害
- C. 会发生沙尘暴
- D. 台风和寒潮都不会光顾

20. 寒潮

- A. 会带来较高纬度的寒冷空气
- B. 会带来较低纬度的温暖空气
- C. 常发生在夏季,带来暴雨天气
- D. 多发于冬季,不影响农业生产

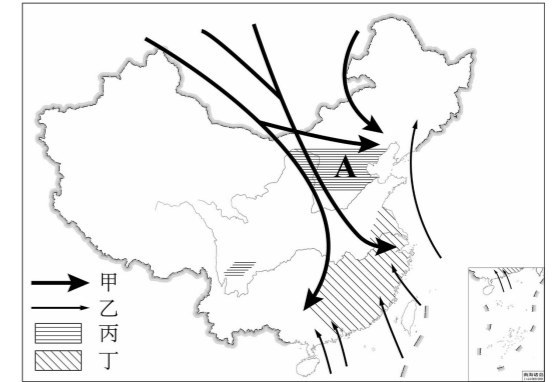


图5

2019年正值澳门回归二十周年之际。澳门大学前身为东亚大学,1991年更名为澳门大学,2014年正式迁入位于广东横琴岛的新校区,授权由澳门特别行政区依照澳门特区的法律实施管辖。图6为澳门特别行政区填海造陆图。读图,完成21、22题。

21. 澳门特别行政区

- A. 完全由岛屿组成
- B. 目前土地中大部分为填海造陆而来
- C. 位于珠江口以东
- D. 回归祖国后,就不再填海造陆了

22. 澳门大学迁往横琴岛

- ①可以使学校获得更大的发展空间
- ②可以促进广东省与澳门两地的教育合作
- ③不利于国外科学技术的引进
- ④增加澳门土地利用压力

- A. ①②
- B. ①③
- C. ②④
- D. ③④

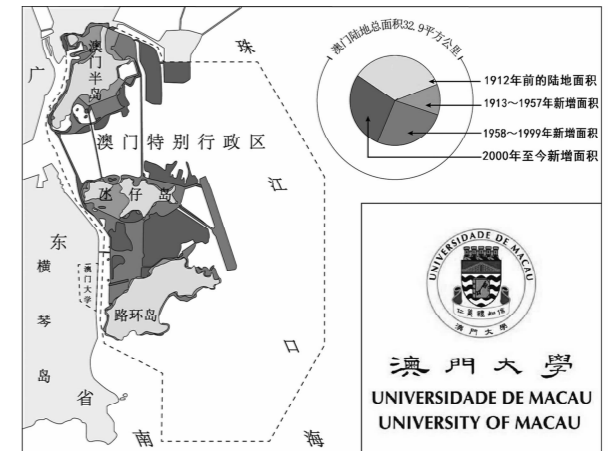


图6

图7为世界海陆分布随纬度的变化示意图,图8为不同纬度人口所占比例示意图。读图,完成23~25题。

23. 从图中可以看出

- A. 世界整体是海洋面积大,陆地面积小
- B. 南半球陆地面积大于海洋面积
- C. 南半球的陆地面积比北半球陆地面积大
- D. 北半球的陆地面积随着纬度增高逐渐增加

24. 世界人口数量

- A. 北半球少,南半球多
- B. 北极地区比南极地区少
- C. 北半球随纬度增高而减少
- D. 南半球随纬度增高而减少

25. 世界上

- A. 气温越高的地区人口越稠密
- B. 人口密度与陆地面积成正比
- C. 内陆地区人口稠密
- D. 北纬40°附近人口较稠密

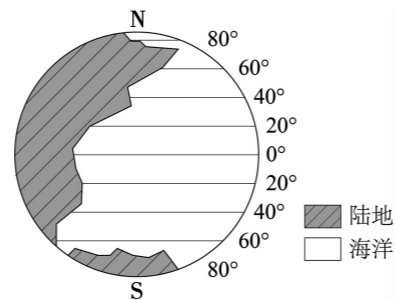


图7

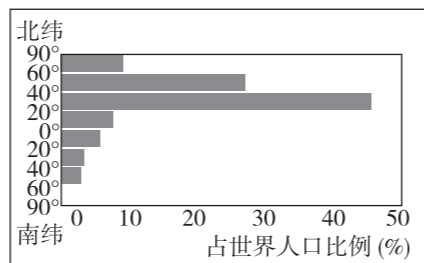


图8

图9为世界部分国家人均国民收入与城市空气质量示意图。读图,完成26~29题。

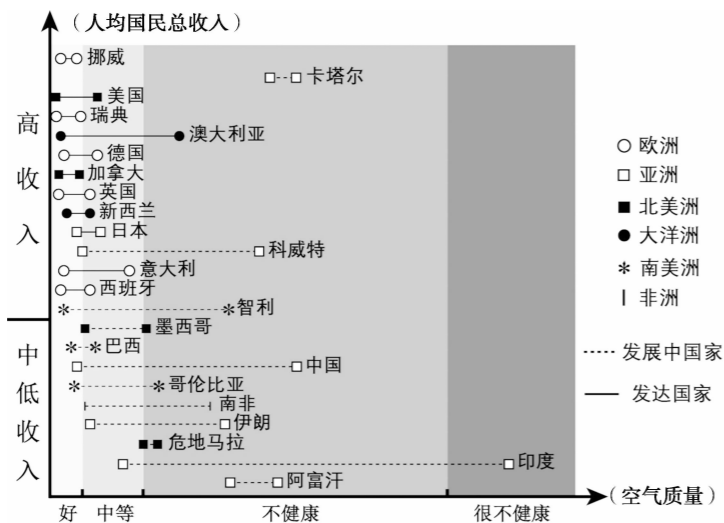


图9

26. 图中各大洲国家中

- A. 亚洲、南美洲均无高收入国家
- B. 欧洲、大洋洲均为高收入国家
- C. 非洲、北美洲无中低收入国家
- D. 亚洲、非洲均为中低收入国家

27. 图中发达国家

- A. 人均国民总收入均高于发展中国家
- B. 空气质量差异最大的是德国
- C. 空气质量均好于发展中国家
- D. 欧洲数量最多

28. 中国

- A. 是发达国家但比美国人均收入低
- B. 是发展中国家,比巴西空气质量差
- C. 城市空气质量在亚洲中差异最大
- D. 城市的空气质量都属于不健康状态

29. 为改善城市空气质量可以

- A. 提高工业水平,减少废气排放
- B. 加大燃煤供暖比例
- C. 把工业转移到城市中心地带
- D. 减少城市绿地面积

亚太经合组织第二十六次领导人非正式会议2018年11月在巴布亚新几内亚举行。巴布亚新几内亚是南太平洋西部的一个岛国,由周边600余个大小岛屿组成。图10为巴布亚新几内亚简图,读图,完成30~33题。

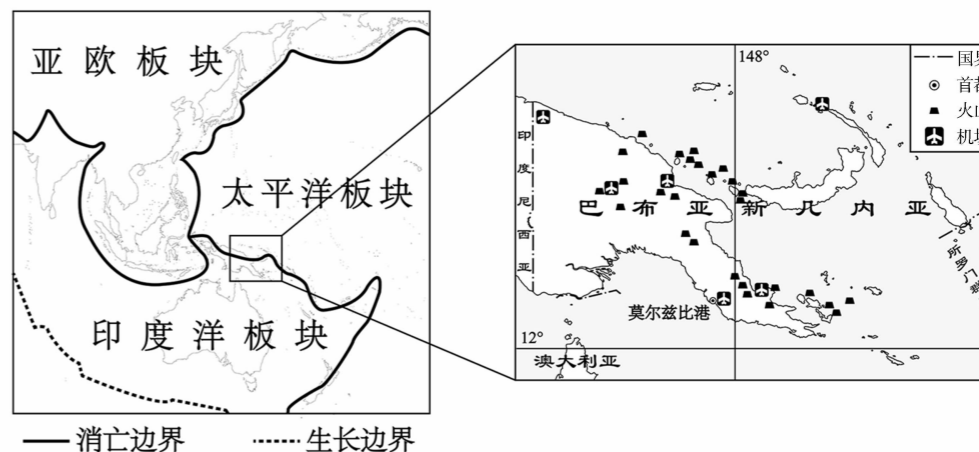


图10

30. 巴布亚新几内亚多火山的原因是

- ①位于亚欧板块与印度洋板块交界处
- ②位于太平洋板块与印度洋板块交界处
- ③位于板块消亡边界
- ④位于板块生长边界

- A. ①③
- B. ①④
- C. ②③
- D. ②④

31. 我国与巴布亚新几内亚开展了以下几个方面的国际经济合作:①中国公司建设了当地的独立大道、国际会议中心及公路、桥梁、机场、码头;②该国使用中国政府优惠贷款建设的水电站、医院、校舍成为当地新地标;③福建省援助东高地省菌草、旱稻种植技术示范项目。对几个项目归类正确的是

- A. ①工程承包 ②国际投资 ③技术合作
- B. ①国际投资 ②工程承包 ③技术合作
- C. ①技术合作 ②国际投资 ③工程承包
- D. ①工程承包 ②国际投资 ③劳务合作

32. 图 11 为巴布亚新几内亚当地的传统民居,此民居

- A. 土石材质,就地取材
- B. A 字型结构,便于排水
- C. 底部悬空,防寒保温
- D. 低矮质轻,适合游牧



图 11

33. 该国沿海地区居民近几年被迫搬到较高的地方居住,这是因为

- A. 躲避火山喷发的危险
- B. 获取更加温暖的居住环境
- C. 获取更多的耕作土地
- D. 躲避气候变暖带来的海平面上升威胁

图 12 为南极地区略图,表 2 为我国南极地区考察站资料。根据图文资料,完成 34~36 题。

34. 中国南极科考站中

- A. 昆仑站的纬度、海拔均为最低
- B. 位于南极圈以北的只有长城站
- C. 泰山站和中山站均可常年科考
- D. 长城站今年正值建站三十周年

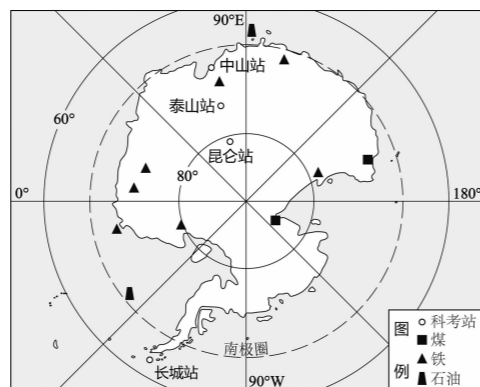


图 12

35. “雪龙”号考察船在极地考察期间,有严格的规章制度,包括“严禁垃圾入海”“舱外禁止吸烟和穿拖鞋”“节约用水”。这些要求是因为

- A. 吸烟可能引起极地地区森林火灾
- B. 为保护船舱环境,不向海内丢弃垃圾
- C. 获取液态水资源困难,要节约用水
- D. 穿拖鞋容易被蚊虫叮咬而传染疾病

表 2

名称	建站时间	海拔	类型
长城站	1985 年 2 月	10m	常年科考站
中山站	1989 年 2 月	11m	常年科考站
昆仑站	2009 年 1 月	4087m	夏季使用
泰山站	2014 年 2 月	2621m	夏季使用

36. 南极地区

- A. 矿产资源全部分布在内陆地区
- B. 矿产资源多为可再生资源
- C. 自然环境特殊,极具科学考察价值
- D. 建立科考站以开发其丰富矿产资源

某地理小组在夏至日(6 月 22 日),开展了学校旗杆的正午影长观测活动。图 13 为学校一角示意图,图 14 为当日正午地球光照图。读图,完成 37~40 题。

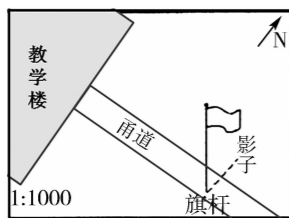


图 13

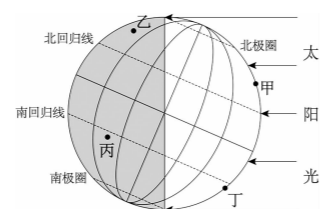


图 14

37. 观测小组从教学楼前往旗杆处,在图 13 中的距离为 2 厘米,实际

- A. 向东走 20 米
- B. 向西走 200 米
- C. 向北走 2000 米
- D. 向南走 2 米

38. 长期观测发现夏至日与其他日期比较,正午学校旗杆影子

- A. 方向不同
- B. 只今天朝北
- C. 最短
- D. 最长

39. 该学校有可能位于图 14 中的

- A. 甲处
- B. 乙处
- C. 丙处
- D. 丁处

40. 一年中,正午旗杆影子长短变化是因为地球的

- A. 形状
- B. 大小
- C. 自转
- D. 公转

## 第 II 卷 综合题(共 50 分)

41. 北京世界园艺博览会(简称世园会)将于 2019 年 4 月 29 日至 10 月 7 日举办,承办地为北京市延庆区。延庆区素有北京“夏都”之称,是北京人的避暑胜地,同时也是北京市太阳能和风能资源最丰富的地区。图 15 为延庆区及周边地图,图 16 为延庆区人口分布及其在北京市的位置图。依据图文资料,回答下列问题。(共 16 分)

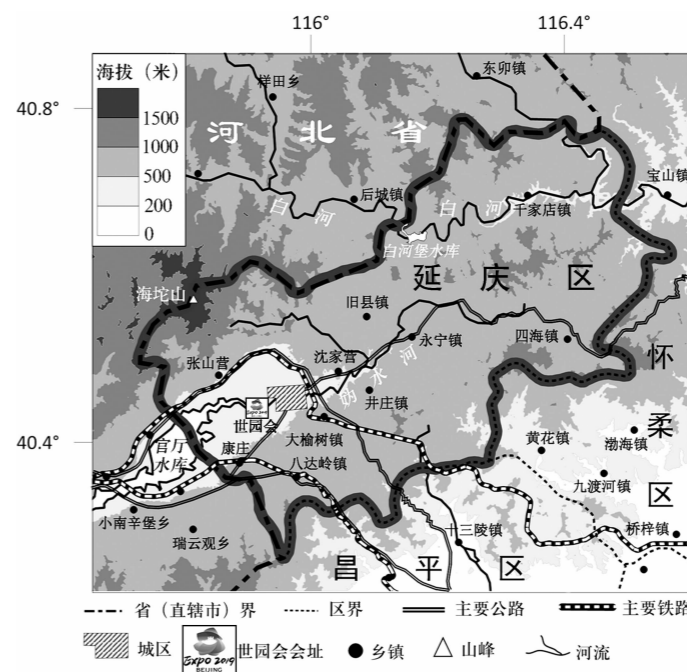


图 15

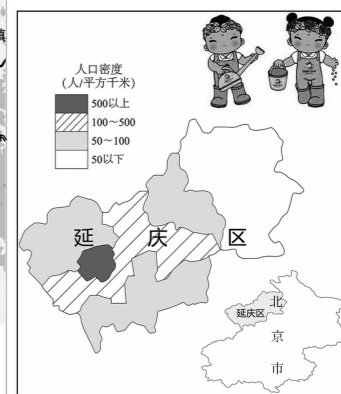
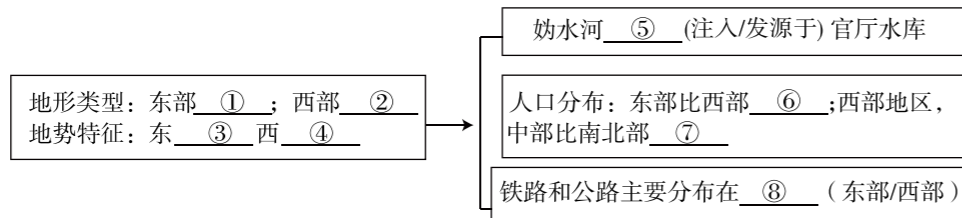


图 16

(1) 世园会会址 \_\_\_\_\_、\_\_\_\_\_。(2 分)

- A. 大体位于 115.9°E, 40.45°N
- B. 地处白河下游
- C. 在延庆城区的东南方
- D. 临近官厅水库

(2)在下面序号处填入适当内容,来看一看延庆区自然环境特点及对人类活动的影响。(8分)



(3)1999年世园会在昆明举办,昆明的市花是山茶花,其花期与空气的湿度和温度有关(温度高,湿度大,开花早且花期长),一般从10月份始花,翌年5月份终花。茶花持久的花期,使它成为了一种很好的观赏植物。如果想在延庆世园会期间展出盛开的茶花,某同学提出了两个方案,请你依据图17和图18,将方案补充完整。(4分)

方案1:1月份将茶花运至延庆展馆室内,通过适当\_\_\_\_\_温度,\_\_\_\_\_湿度来保证茶花生长,并适当延迟花期。

方案2:在昆明将茶花放到室内,通过适当\_\_\_\_\_温度,\_\_\_\_\_湿度来推迟茶花花期,到时空运到延庆展出。

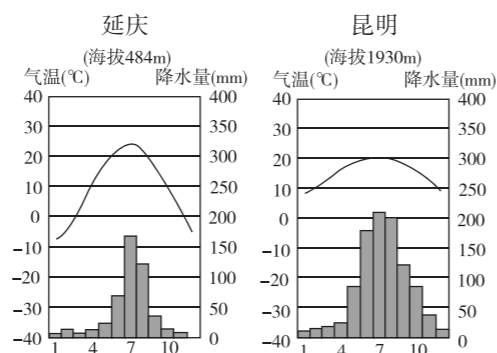


图17 图18

(4)从延庆区是北京的“夏都”“太阳能资源最丰富的地区”“风能资源最丰富的地区”的说法中任选其一解释其与自然环境的关系。(2分)

42.农业在中国历来被认为是安天下、稳民心的战略产业。我国幅员辽阔,农业生产存在着明显的地域差异。图19为我国两种主要粮食作物分布图,图20为我国几个城市气候资料图,图21为我国人口统计图。读图,回答下列问题。(共15分)



图19

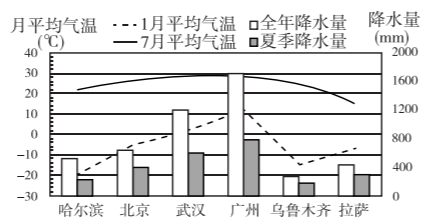


图20

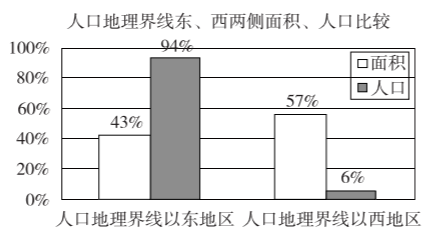


图21

(1)我国以种植业为主的地区和以畜牧业为主的地区在人口数量和密度两方面的差异是:\_\_\_\_\_。(2分)

(2)从图20可以看出我国以种植业为主的地区从北向南气温逐渐\_\_\_\_\_,年降水量逐渐\_\_\_\_\_,但各地降水的相同之处在于季节变化大,主要集中在\_\_\_\_\_。(3分)

(3)由气候条件可以判断出A作物品种是\_\_\_\_\_(水稻/小麦)、B作物品种是\_\_\_\_\_(水稻/小麦)。(2分)

(4)两种作物集中产区的界线大体是\_\_\_\_\_—\_\_\_\_\_一线,这条界线也是我国北方地区和\_\_\_\_\_地区的分界线。(3分)

(5)乌鲁木齐1月的气温比拉萨\_\_\_\_\_,这是由于乌鲁木齐纬度比拉萨高;而乌鲁木齐7月的气温比拉萨\_\_\_\_\_,这说明拉萨的地势一定比乌鲁木齐\_\_\_\_\_.由此可知我国西部地区粮食作物虽然都主要分布在河流附近,但原因却不同,西北地区是为了获取\_\_\_\_\_,青藏地区是为了获取较高的\_\_\_\_\_。(5分)

43.2019年是罗马尼亚与我国建交70周年。为了更好地了解这个国度,同学们分组开展了“走进罗马尼亚”的地理学习活动。图22为罗马尼亚地形及两城市气温曲线和降水量柱状图。(10分)

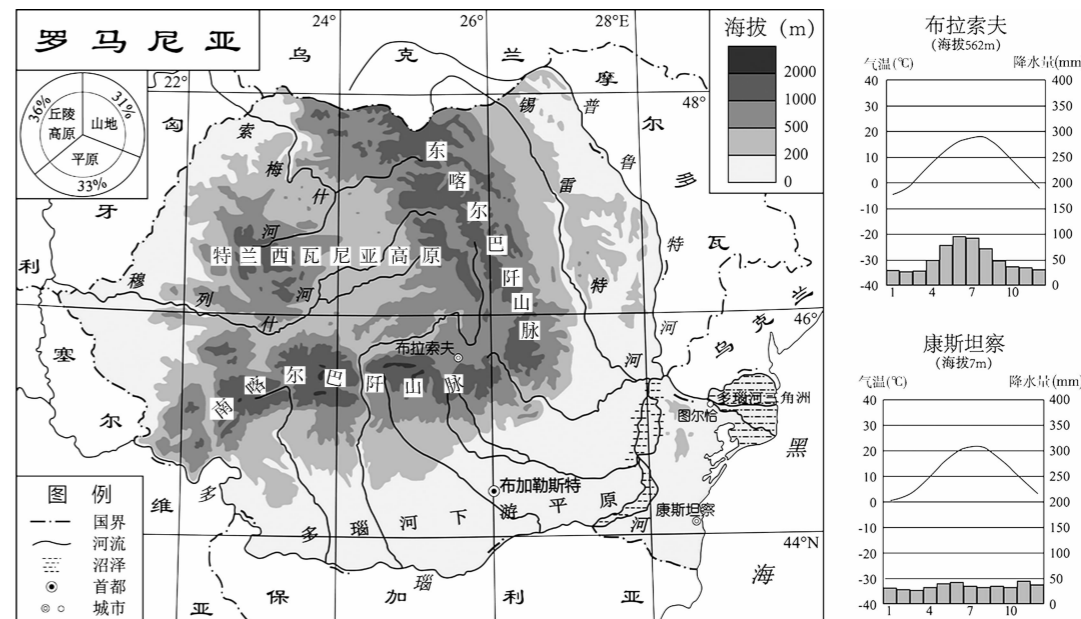


图22

(1)第一小组从不同角度对罗马尼亚的位置展开探究,结果发现罗马尼亚\_\_\_\_\_、\_\_\_\_\_。(2分)

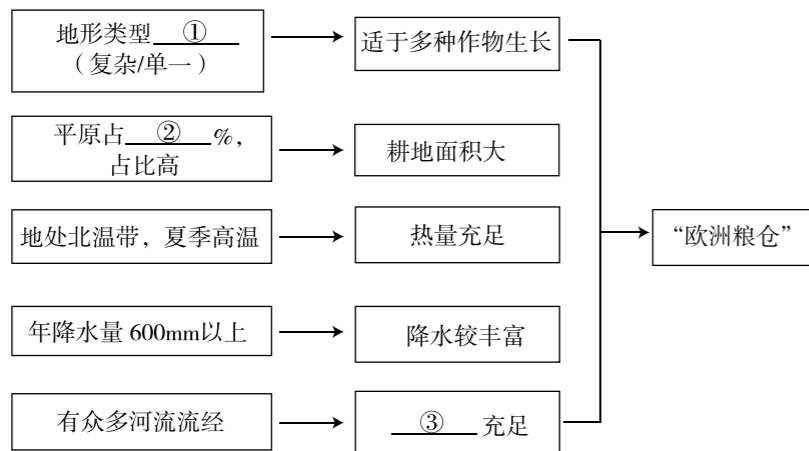
- A. 以普鲁特河为界与摩尔多瓦相邻      B. 国土东南部主要由平原构成  
C. 地处中纬地区,全部位于南温带      D. 西临黑海,隔海与非洲相望

(2)第二小组发现罗马尼亚被誉为“天堂一角”,多瑙河、喀尔巴阡山脉和黑海赋予其独特的旅游风光。请将其最具当地特色的项目与城市进行连线。(3分)

- 布拉索夫                                      游多瑙河三角洲芦苇荡,观湿地飞鸟  
图尔恰    登喀尔巴阡山脉,探秘原始森林  
康斯坦察                                        赏黑海海滨美景,海边垂钓

(3)第三小组了解到罗马尼亚被誉为“欧洲粮仓”,由此进行调查。请帮其完成下列框图。

(3分)



(4)第四小组了解到罗马尼亚是“矿泉水大国”,采自喀尔巴阡山脉深处的矿泉水因历经亿万年火山水晶岩层的渗透、虑净、矿化,具有丰富的钙、镁等多种人体需要的离子微量元素。罗马尼亚打算制定《矿泉水法》,对天然矿泉水的开发方式及数量进行明确规范。有同学认为矿泉水是水资源,水资源又是可再生资源,没有必要制定繁琐的《矿泉水法》,请你对此观点提出反对意见。(2分)

44. 几内亚湾西起利比里亚的帕尔马斯角,东止加蓬的洛佩斯角,是非洲最大的海湾。几内亚湾地区也是中国“一带一路”倡议的积极推动地。图 23 为几内亚湾地区地图。图 24 为非洲部分区域气候类型图。据此,回答下列问题。(9分)

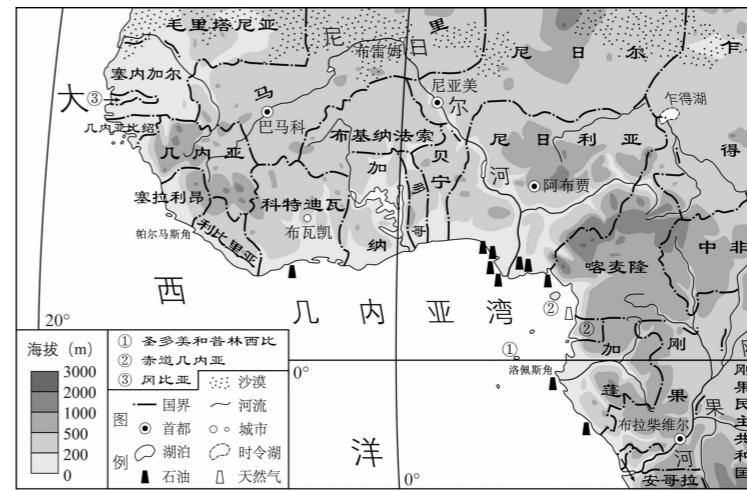


图 23

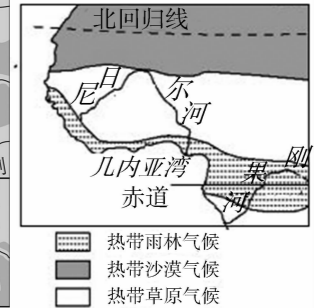


图 24

(1)几内亚湾\_\_\_\_\_、\_\_\_\_\_。(2分)

- A. 是大西洋的一部分      B. 沿岸的科特迪瓦首都是布瓦凯  
C. 位于赤道附近,地跨南北半球      D. 沿岸面积最大的国家是尼日尔

(2)尼日尔河和刚果河是非洲两条重要河流,先向东北流后向东南流注入几内亚湾的是\_\_\_\_\_,越接近入海水口水能越丰富的是\_\_\_\_\_;尼日尔河流域主要位于\_\_\_\_\_气候类型区,刚果河流域主要位于\_\_\_\_\_气候类型区,因此两条河流水量大且季节变化小的应是\_\_\_\_\_。(5分)

(3)几内亚湾地区石油丰富,关于尼日利亚的石油有如下描述,挑选出其中两处错误抄写在下面横线上。(2分)

尼日利亚石油资源主要分布在内陆地区,石油收入是该国仅次于农产品及工业制品收入的重要经济来源。近年来,北美从该国进口石油数量大大降低,2009年已经跌至第二位,这对尼日利亚经济产生了不良影响。好在对其他地区的石油出口量有明显提高,其中亚洲成为数量最多、增长最快的地区。

错误 1: \_\_\_\_\_  
错误 2: \_\_\_\_\_

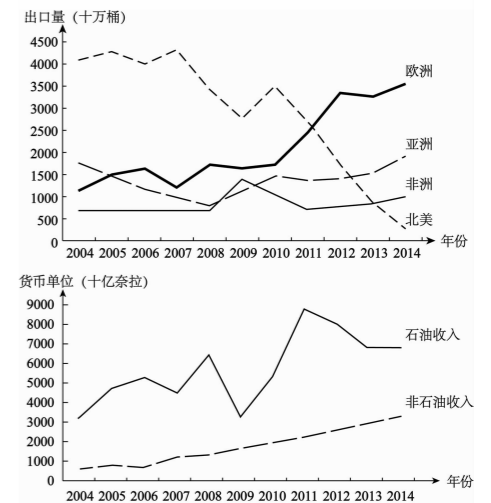


图 25