

地理部分 (共50分)

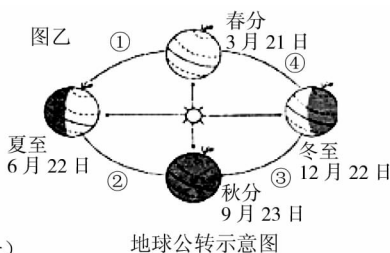
2016. 5

一、选择题(下列各题的四个选项中,只有一项最符合题意,请将正确的选项填在相应题目的括号中,每小题 2 分,共 24 分)

2014 年 10 月 8 日晚,亚洲和美洲地区出现月全食现象:即整个月亮全部走进地球的影子
里,没有太阳光直射。读图,完成下列 1-2 题。



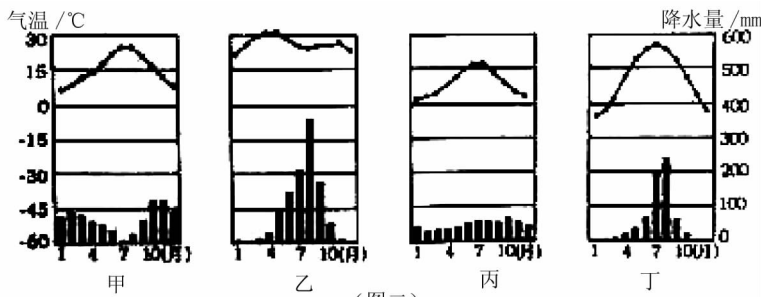
(图一)



地球公转示意图

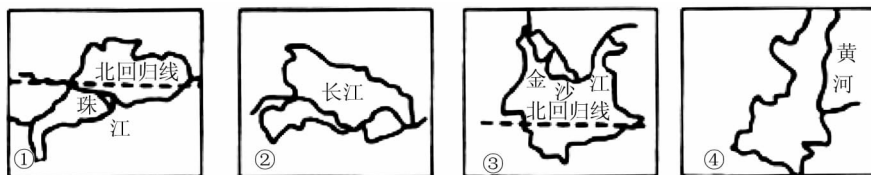
- 月食现象可以作为以下哪个地理现象的证据
 A. 地球的大小 B. 地球的形状 C. 地球的公转方向 D. 地球的自转方向
- 本次月食发生时,地球运行在图乙中所示的
 A. ①段 B. ②段 C. ③段 D. ④段

下面是四地气温曲线和降水柱状图,据图(二)回答 3-4 题。



(图二)

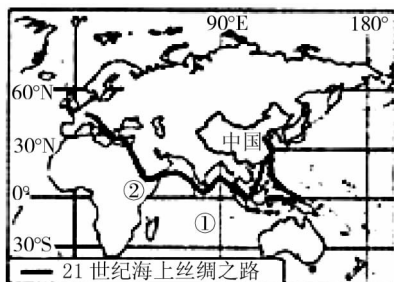
- 四地中气候具有“夏季高温多雨,冬季寒冷干燥”特点的是
 A. 甲 B. 乙 C. 丙 D. 丁
- 四地中的某地,农业生产在夏季 必须依靠灌溉,该地是
 A. 甲 B. 乙 C. 丙 D. 丁
- 读图(三)我国四省区轮廓图,下列叙述正确的是



(图三)

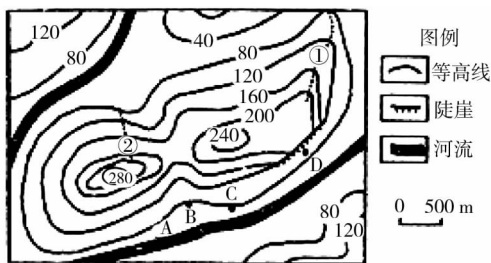
- A. ①省区位于我国地势的第二级阶梯
B. ②省区东部地形为盆地
C. 竹楼是③省区少数民族傣族的传统民居
D. ④省区的简称是晋
6. 关于南亚气候特点的叙述,正确的是
A. 终年高温多雨
B. 全部位于热带季风气候区
C. 西北季风带来丰沛的降水
D. 西南季风来的早,退的晚,容易造成涝灾
7. 关于长江和黄河共同特征的叙述,正确的是
A. 都有凌汛现象发生
B. 水能资源都集中在上、中游河段
C. 治理的首要任务都是防洪
D. 干流共同流经的省区是青海和四川

我国正积极推进“21 世纪海上丝绸之路”战略构想,全面发展与沿线国家的经济合作关系。读图四回答 8 - 9 问题。



(图四)

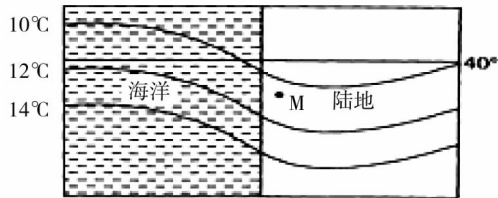
8. “21 世纪海上丝绸之路”经过的大洋①是
A. 北冰洋
B. 太平洋
C. 印度洋
D. 大西洋
9. 下列产品主要为我国向②地区输出的是
A. 冰箱、彩电
B. 黄金、金刚石
C. 羽绒服、皮帽
D. 木材、香料
10. 东部地区是我国种植业、林业、渔业的主要分布区,下列说法正确的是
A. 种植业主要分布在湿润、半湿润的平原地区
B. 人工林集中分布在东北大兴安岭地区
C. 沿海地区淡水渔业发达
D. 南方地区是我国的主要旱作农业区
11. 某中学组织夏令营活动,在当地某个山区(图五所示)考察,按预定计划需搭帐篷宿营。下列说法正确的是



(图五)

- A. 从安全的角度最适合宿营的地点是 D 点
B. 测得图中海拔最高处的气温为 20°C , 那么 C 处气温为 18.8°C
C. 图中①②两处坡度较陡的是②处
D. 图中①②两处都为山脊

12. 根据图(六)中信息判断,正确的是



(图六)

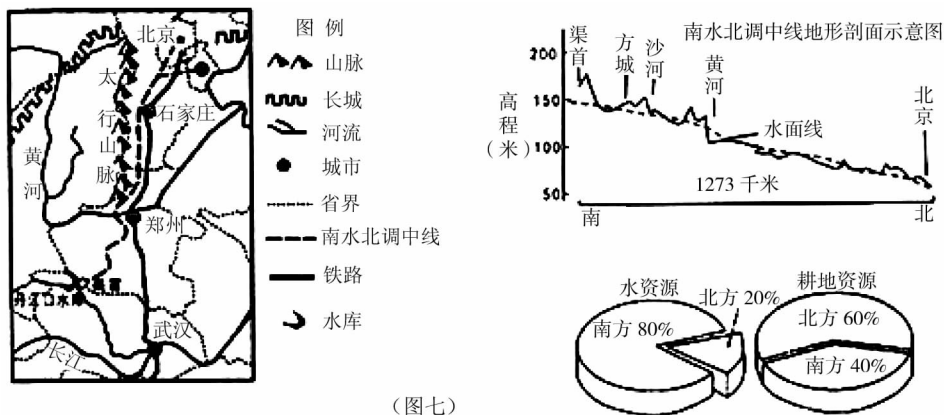
- A. 此时 M 地为北半球的冬季
 B. M 地的气候类型为温带季风气候
 C. 此时 M 地为北半球的夏季
 D. M 地一定为北美洲

二、综合题(本大题包括 3 个小题,共 26 分。请将答案写在答题卡的对应位置)

13. 读材料,完成下列各题。(8 分)

材料一:2014 年 12 月 12 日,南水北调中线工程正式通水,缓解了沿线群众的生产生活用水困难。

材料二:“南水北调工程中线路图”、“南水北调中线地形剖面示意图”和“我国南北方水土组合状况比较图”(图七)。




(图七)

- (1) 图中所示郑州所在的省级行政区的简称是_____。(1 分)
- (2) 从我国水资源的空间分布特点及生产生活用水现状等方面,谈一谈南水北调的必要性。(3 分)
- (3) 和南水北调东线工程相比,中线工程的一大特点是全线基本实现自流输水,输水成本低. 中线能自流输水的原因是_____。(1 分)
- (4) 太行山以西的地形区是_____该地形区突出的生态环境问题是_____。(2 分)
- (5) 为缓解北方地区用水紧张,除南水北调外,可以采取的措施有_____。(1 分)
- ①节约用水,保护水资源
 ②治理水污染,加大循环利用
 ③积极发展节水农业,修建水库等水利工程
 ④利用先进钻探技术,大量开采深层地下水
 ⑤加强宣传,提高节水意识
- A. ①②③④
 B. ①②③⑤
 C. ②③④⑤
 D. ①②④⑤

14. 读下列材料,回答问题。(8分)

材料一:东南亚各国是中国的近邻,该地区由中南半岛和马来群岛组成,是世界上主要的稻米和天然橡胶、油棕、椰子等热带作物的产区。

材料二:东南亚地区图和马来群岛火山爆发图。



(图八)

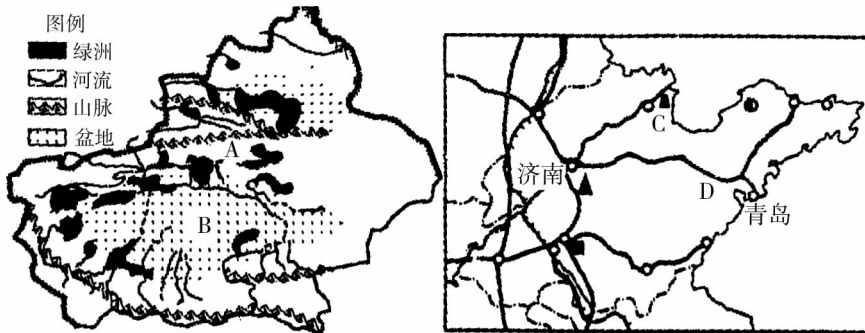
(1) 写出图中字母代表的地理事物名称

A _____ 海峡, B _____ 河流, C _____ 国家。(3分)

(2) 该地区有世界上最大的天然橡胶生产国_____,从气候和劳动力两方面分析其生产天然橡胶的有利条件_____。(3分)

(3) 马来群岛火山活动频繁,小明和小芳分别搜集火山活动对当地居民生产、生活的有利和不利的影
响。请你帮他们写出来。_____ (2分)

15. 读新疆绿洲分布图和山东省地图,回答问题。(10分)



(图九)

(1) 填出两图中字母代表的地理事物名称

A _____ 山脉, B _____ 盆地(2分)

(2) 山东生产的汽车、拖拉机运送到新疆,最合理的运输方式是_____,新疆生产的石油、天然气输
送到 山东,最合理的运输方式是_____。(2分)

(3) 新疆绿洲的分布规律是_____.绿洲农业的水源主要来自_____.本地瓜果甜的主要原
因是_____。(3分)

(4) 西北地区人口稀疏,经济相对落后,为促进其社会经济发展,能否由人口稠密的华北平原地区向
西北地区大量迁移人口? _____(1分) 请谈谈你的看法_____ (2分)