

数学奥林匹克初中训练题(8)

第一试

一、选择题(每小题7分,共42分)

1. 如果 a, b, c 是三个任意的整数, 那么, $\frac{a+b}{2}, \frac{b+c}{2}, \frac{c+a}{2}$ 中().

- (A) 都不是整数
- (B) 至少有一个整数
- (C) 都是整数
- (D) 至少有两个整数

2. 如图1, E, F 分别是长方形 $ABCD$ 边

AD, BC 上的点, 且 ABG, DCH 的面积分别为 15、20. 则图1中阴影部分的面积为().

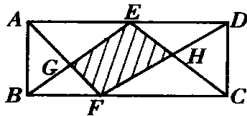


图1

- (A) 15
- (B) 20
- (C) 35
- (D) 40

3. 能判定四边形 $ABCD$ 是菱形的条件是().

- (A) 对角线 AC 平分对角线 BD , 且 $AC \perp BD$
- (B) 对角线 AC 平分对角线 BD , 且 $A = C$
- (C) 对角线 AC 平分对角线 BD , 且平分 A, C
- (D) 对角线 AC 平分 A, C , 且 $A = C$

4. 当 $x - y = 1$ 时, $x^4 - xy^3 - x^3y - 3x^2y + 3xy^2 + y^4$ 的值为().

- (A) -1
- (B) 0
- (C) 1
- (D) 2

5. 设 b 取 1 到 11 之间的偶数, c 取任意正整数. 则可以组成有两个不相等实数根的一元二次方程 $x^2 - bx + c = 0$ () 个.

- (A) 50
- (C) 55
- (C) 57
- (D) 58

6. 甲、乙、丙、丁四人做相互传球游戏, 第一次甲传给其他三人中的一人, 第二次由拿到球的人再传给其他三人中的一人, 这样的传球共进行了 4 次. 则第四次仍传回到甲的概率是().

- (A) $\frac{7}{27}$
- (B) $\frac{5}{27}$
- (C) $\frac{7}{8}$
- (D) $\frac{21}{64}$

二、填空题(每小题7分,共28分)

1. 已知 $a + b + c = 0, a > b > c$. 则 $\frac{c}{a}$ 的取值范围是_____.

2. 计算: $\frac{1^2}{1^2 - 100 + 5000} + \frac{3^2}{3^2 - 300 + 5000} + \frac{5^2}{5^2 - 500 + 5000} + \dots + \frac{99^2}{99^2 - 9900 + 5000} =$ _____.

3. 如图2, 以 $Rt \triangle ABC$ 的三边为边分别向外作面积各为 S_1, S_2, S_3 的半圆、正方形和正三角形, 则显然有 $S_1 = S_2 + S_3$.

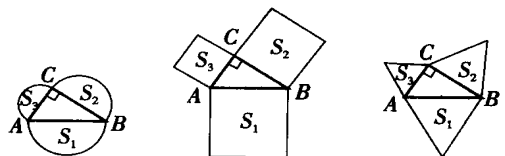


图2

分别以 $Rt \triangle ABC$ 的三边为边向外作三个面积各为 S_1, S_2, S_3 的任意三角形, 且 $S_1 = S_2 + S_3$. 类比以上结论, 则这三个三角形满足的一个条件是_____.

4. 5 支球队进行循环比赛(每两支球队都赛一场), 已知甲队已赛 3 场, 乙队比甲队赛的场数多, 丙队比甲队赛的场数少, 丁队

与戊队赛的场数一样多,但丁队与戊队没赛过.那么,总比赛场数是_____.

第二试

一、(20分)已知 t 是一元二次方程 $x^2 - x - 1 = 0$ 的一个根.对任意的有理数 a ,有理数 b, c 满足 $(at + 1)(bt + c) = 1$.

(1)求 b 和 c (用 a 的代数式表示);

(2)是否存在这样的有理数 a ,使得 b 或 c 中至少有一个等于 $\frac{1}{2008}$? 若存在,求出这样的 a 值;若不存在,说明理由.

二、(25分)团体购买某公园门票,票价如表 1:

表 1

| | | | |
|-------|--------|----------|--------|
| 购票人数 | 1 ~ 50 | 51 ~ 100 | 100 以上 |
| 每人门票价 | 13 元 | 11 元 | 9 元 |

今有甲、乙两个旅游团,若分别购票,两团总计应付门票费 1 314 元;若合在一起作为一个团体购票,总计支付门票费 1 008 元.问这两个旅游团各有多少人?

三、(25分)如图 3,

ABC 被三条共点直线 AD, BE, CF 分成六个小三角形.若 BPF, CPD, APE 的面积均为 1,求 APF, DPB, EPC 的面积.

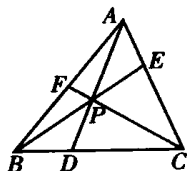


图 3

参考答案

第一试

一、1. C.

注意到三个任意整数 a, b, c 中至少有两个数的奇偶性相同,不妨设这两个数为 a, b ,则 $\frac{a+b}{2}$ 为整数.

2. C.

联结 EF .在梯形 $ABEF$ 中,由 $S_{EGF} = S_{ABG}$,得 $S_{EGF} = 15$.

同理, $S_{EFH} = 20$.

所以,阴影部分面积为 35.

3. D.

如图 4, AC 平分 BD, AC 平分 A 和 C ,故可排除选项(A)、(C).而选项(B)的条件只能推出四边形 $ABCD$ 是平行四边形,故排除选项(B).

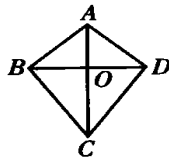


图 4

4. C.

当 $x - y = 1$ 时,
 $x^3 - y^3 = (x - y)(x^2 + xy + y^2)$
 $= x^2 + xy + y^2 = (x - y)^2 + 3xy = 1 + 3xy$,
 故 $x^4 - xy^3 - x^3y - 3x^2y + 3xy^2 + y^4$
 $= x(x^3 - y^3) + y(y^3 - x^3) + 3xy(y - x)$
 $= (x - y)(x^3 - y^3) - 3xy(x - y)$
 $= 1 + 3xy - 3xy = 1$.

5. A.

当 $b = 2$ 时,由 $b^2 - 4c = 4 - 4c > 0$,得 $c < 1$,无解;

当 $b = 4$ 时,由 $b^2 - 4c = 16 - 4c > 0$,得 $c < 4$,所以, $c = 1, 2, 3$;

当 $b = 6$ 时,由 $b^2 - 4c = 36 - 4c > 0$,得 $c < 9$,所以, $c = 1, 2, \dots, 8$;

当 $b = 8$ 时,由 $b^2 - 4c = 64 - 4c > 0$,得 $c < 16$,所以, $c = 1, 2, \dots, 15$;

当 $b = 10$ 时,由 $b^2 - 4c = 100 - 4c > 0$,得 $c < 25$,所以, $c = 1, 2, \dots, 24$.

故满足条件的方程共有 $3 + 8 + 15 + 24 = 50$ (个).

6. A.

画树状图如图 5.

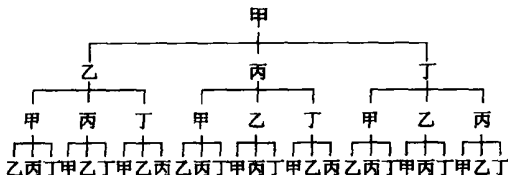


图 5

由图 5 可知,第三次传球不能传给甲.能传给甲的有 6 次,所以,满足条件的有 $27 - 6 = 21$ 次.4 次传球的种数为 3^4 ,故满足条件的概率为 $\frac{21}{3^4} = \frac{7}{27}$.

二、1. $-2 < \frac{c}{a} < -\frac{1}{2}$.

由 $a + b + c = 0, a > b > c$, 得 $a > 0, c < 0$.

由 $1 + \frac{b}{a} + \frac{c}{a} = 0$, 得

$$\frac{b}{a} = -1 - \frac{c}{a}.$$

由 $a > b > c$, 得

$$1 > \frac{b}{a} > \frac{c}{a}.$$

将式 代入式 得

$$1 > -1 - \frac{c}{a} > \frac{c}{a}.$$

$$\text{解得 } -2 < \frac{c}{a} < -\frac{1}{2}.$$

2.50.

注意到

$$\begin{aligned} & \frac{k^2}{k^2 - 100k + 5000} + \frac{(100 - k^2)}{(100 - k)^2 - 100(100 - k) + 5000} \\ &= \frac{k^2}{k^2 - 100k + 5000} + \frac{10000 - 200k + k^2}{k^2 - 100k + 5000} \\ &= \frac{2(k^2 - 100k + 5000)}{k^2 - 100k + 5000} = 2. \end{aligned}$$

令 $k = 1, 3, 5, \dots, 49$, 相加, 知原式 $= 2 \times 25 = 50$.

3. 三个三角形相似.

若这三个三角形相似, 由相似三角形面积比等于相似比的平方得

$$S_1 : S_2 : S_3 = AB^2 : BC^2 : CA^2.$$

在 Rt ABC 中, 有 $AB^2 = BC^2 + CA^2$.

所以, $S_1 = S_2 + S_3$.

4.6.

乙队已赛过 4 场. 若丙队只赛过 1 场, 则丙队与甲队没赛过, 甲队必与丁、戊两队赛过, 故丁、戊两队均赛过 2 场. 于是, 总比赛场数是

$$(3 + 4 + 1 + 2 + 2) \div 2 = 6.$$

若丙队赛过 2 场, 戊、丁两队均赛过 x 场, 则有 $3 + 4 + 2 + x + x = 9 + 2x$ 不是偶数, 引出矛盾.

第二试

一、(1) 因 t 是 $x^2 - x - 1 = 0$ 的根, 则, $t^2 = t + 1$.

由 $(at + 1)(bt + c) = 1$, 得

$$abt^2 + act + bt + c - 1 = 0,$$

即 $ab(t + 1) + act + bt + c - 1 = 0$.

从而, $(ab + ac + b)t + ab + c - 1 = 0$.

又 t 是无理数, a, b, c 是有理数, 所以,

$$\begin{cases} ab + ac + b = 0, \\ ab + c - 1 = 0. \end{cases}$$

$$\text{解得 } b = \frac{a}{a^2 - a - 1}, c = -\frac{a + 1}{a^2 - a - 1}.$$

(2) 不存在.

若 $b = \frac{1}{2008}$, 则 $\frac{a}{a^2 - a - 1} = \frac{1}{2008}$, 即

$$a^2 - 2009a - 1 = 0,$$

此方程的根是无理数.

若 $c = \frac{1}{2008}$, 则 $-\frac{a + 1}{a^2 - a - 1} = \frac{1}{2008}$, 即

$$a^2 + 2007a + 2007 = 0,$$

此方程无有理数根.

故满足条件的有理数 a 不存在.

二、人数若不超过 100 人, 费用至多 1300 元, 所以, 两个旅游团的总人数超过 100 人.

又 $1008 \div 9 = 112$, 知两个旅游团总人数为 112 人.

设两个旅游团人数分别为 x 人、 y 人. 由 $x + y = 112$, 知 x, y 中至少有一个大于 50. 又由 $112 \times 11 = 1232 < 1314$, 可知 x 与 y 不会都大于 50.

若一个旅游团超过 100 人, 另一个旅游团不足 12 人时, 门票总钱数至多为

$$900 + 13 \times 12 = 1056 < 1314.$$

于是, 可以断定有一个旅游团人数不超过 50 人, 另一个旅游团人数超过 50 人但不超过 100 人.

不妨设 $1 < x < 50, 51 < y < 100$, 则有

$$\begin{cases} x + y = 112, \\ 13x + 11y = 1314. \end{cases}$$

解得 $x = 41, y = 71$.

故两个旅游团的人数分别为 41 人和 71 人.

三、设 APF 、 DPB 、 EPC 的面积分别为 x 、 y 、 z .

$$\text{因为 } \frac{S_{DPB}}{S_{DPC}} = \frac{BD}{DC}, \frac{S_{DAB}}{S_{DAC}} = \frac{BD}{DC},$$

$$\text{则 } \frac{S_{DPB}}{S_{DPC}} = \frac{S_{DAB}}{S_{DAC}}, \text{ 即 } \frac{y}{1} = \frac{x + y + 1}{z + 2}.$$

所以, $x - y = yz - 1$.

同理, $y - z = zx - 1, z - x = xy - 1$.

不妨设 $x = y = z$, 则

$$yz - 1 = x - y = 0, xy - 1 = z - x = 0.$$

于是, 有 $xy = yz$, 即 $x = z$.

因此, $x = y = z$.

由 $0 = x - y = yz - 1 = z^2 - 1$, 得 $z = 1$.

所以, $x = y = z = 1$.

故所求三个三角形的面积均为 1.

(鲁有专 南京大学附属中学, 210008)